

# 南昌理工学院 2016~2017 学年第一学期期末考试试卷答案

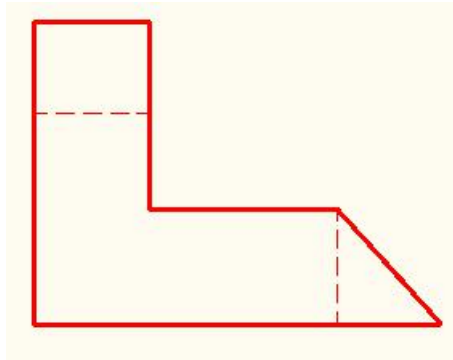
## 《画法几何与建筑制图》B 卷参考答案 2016 级本科

### 一、 填空题(每空 1 分, 共 18 分)

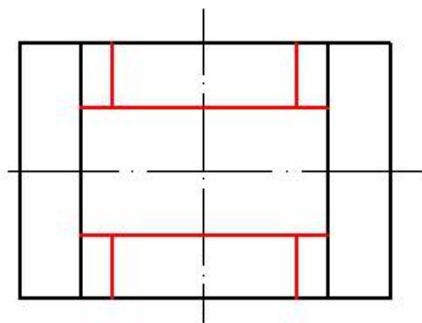
- 1、 420mm×594 mm; 25mm; 10mm。
- 2、 粗实线 虚线
- 3、 4.8
- 4、 箭头; 实际尺寸
- 5、 一般位置平面; 投影面平行面; 投影面垂直面。
- 6、 室外地坪绝对
- 7、 粗实线; 加粗的粗实线
- 8、 点, 图上 2mm 代表实际尺寸 1mm
- 9、 0.7, 0.35

### 二、 作图题 (共四题, 共 54 分)

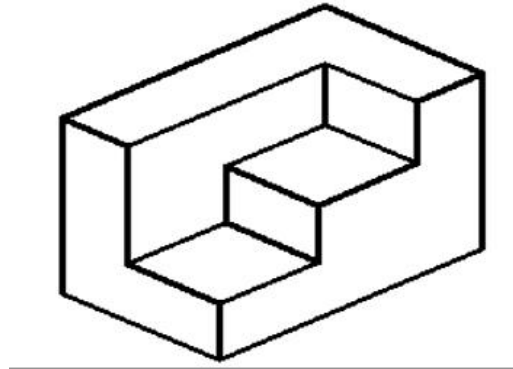
- 1、 根据给定的两面视图, 补画左立面图。(线型 2 分, 共 15 分)



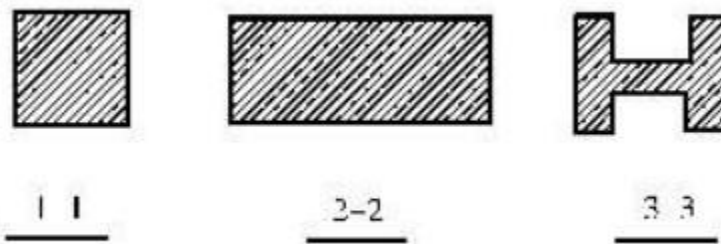
- 2、 根据给定的两面视图, 补画俯视图 (15 分)



3. 根据给定两面投影，画立体的正等轴测图（保留轴测轴）（轴测轴 3 分，共 12 分）



4. 作 1—1、2—2、3—3 断面图。1—1、2—2、3—3（线型 2 分，共 12 分）



### 三、识图题（每空 2 分，共 28 分）

- 1、该首层平面图的比例是 1:100，墙厚为 180 mm；
- 2、该建筑的总长为 16380 mm，总宽为 9180 mm；
- 3、图中 C2 的意思是 窗 2，其宽度为 1500 mm；
- 4、图中卫生间的开间为 1500 mm，进深为 1800 mm，卫生间门的宽度为 700 mm；
- 5、图中建筑入口处的标高为 -0.020，办公室的地面标高为 ±0.000；

6、图中缺少三个轴号，分别为  $\frac{1}{2}$ 、 $\frac{1}{3}$ 、 $\frac{1}{B}$ 。