

(B)卷

课程名称: 画法几何与建筑制图


适用班级: _____

考试日期: _____

题号	一	二	三	四	五	六	七	八	九	十	总分
题分											
得分											

考生注意事项: 1、本试卷共 4 页, 请查看试卷中是否有缺页或破损。如有立即举手报告以便更换。
2、考生在答题纸上答题, 试卷上答题无效! 考试结束后, 不得将试卷、答题纸和草稿纸带出考场。

一、 填空题 (每空 1 分, 共 18 分)

- A2 图纸的幅面规格=_____mm; 图框线与图幅线间的间隔尺寸 a=_____mm, c=_____mm。
- 在建筑工程图样中, 主要可见轮廓线用_____; 不可见轮廓线用_____表示。
- 实际尺寸为 240mm 的线段用 1:50 绘图时, 图样上的线段长度为_____mm
- 标注角度时, 尺寸起止符号用_____表示; 绘图时不论选用多大的比例标注的尺寸数字均为图形的_____。
- 根据平面对投影面所处的不同位置, 可将平面分为三类:_____、_____、_____。
-  表示总平面图上的_____标高为 45.90m。
- 通常把建筑立面图最外的轮廓线用_____画出, 室外地坪线用_____画出。
- 单点长画线或双点长画线的两端不应是_____; 比例 2: 1 是指_____。
- 当图样中粗实线宽度 b 选定为 1.4mm 时, 该图样的中实线宽度为_____, 细实线宽度为_____。

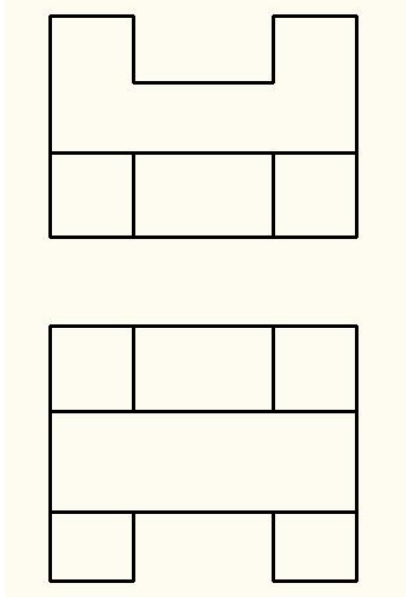
学号
姓名
班
年
级
专业
院系

学号：

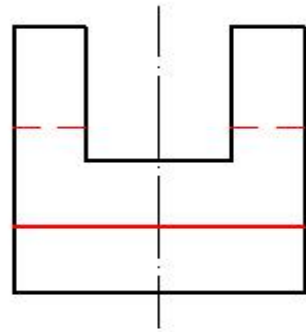
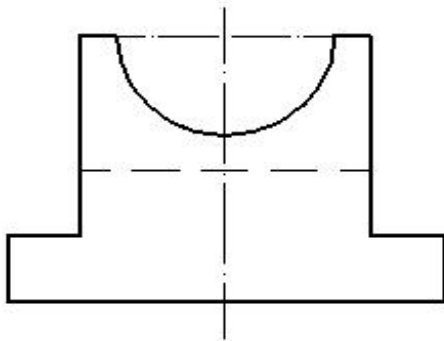
--	--

二、作图题（共四题，共 54 分）

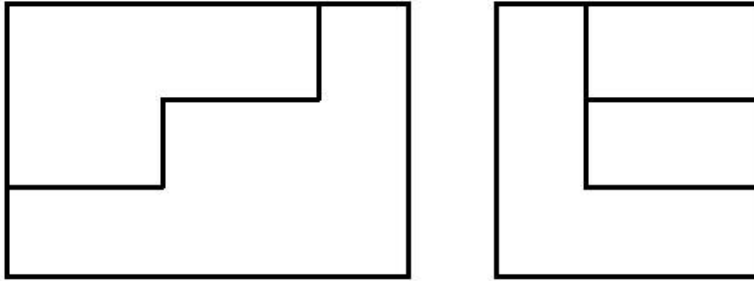
1. 根据给定的两面视图，补画左立面图（15 分）



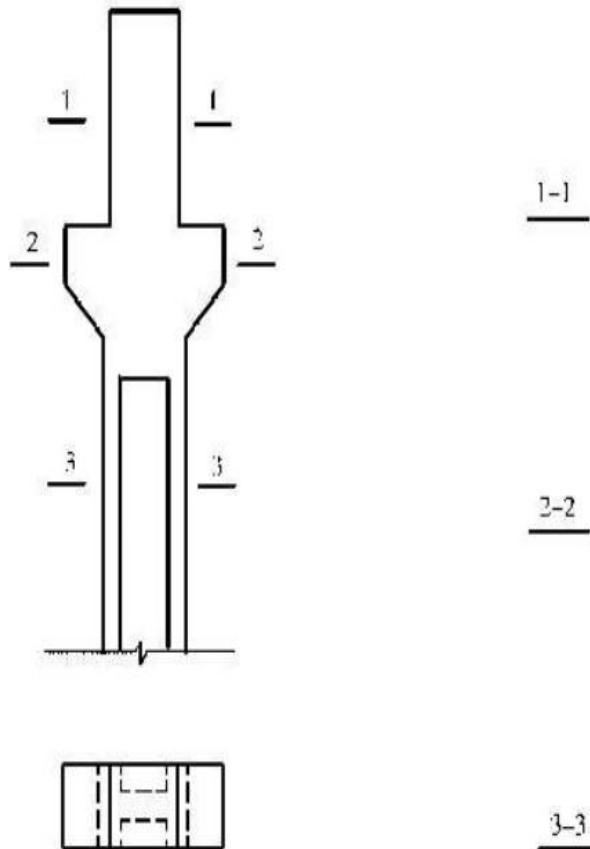
2. 根据给定的两面视图，补画俯视图（15 分）



3. 根据给定的两面投影，画立体的正等轴测图（保留轴测轴）（12分）



4. 作 1—1、2—2、3—3 断面图（12分）



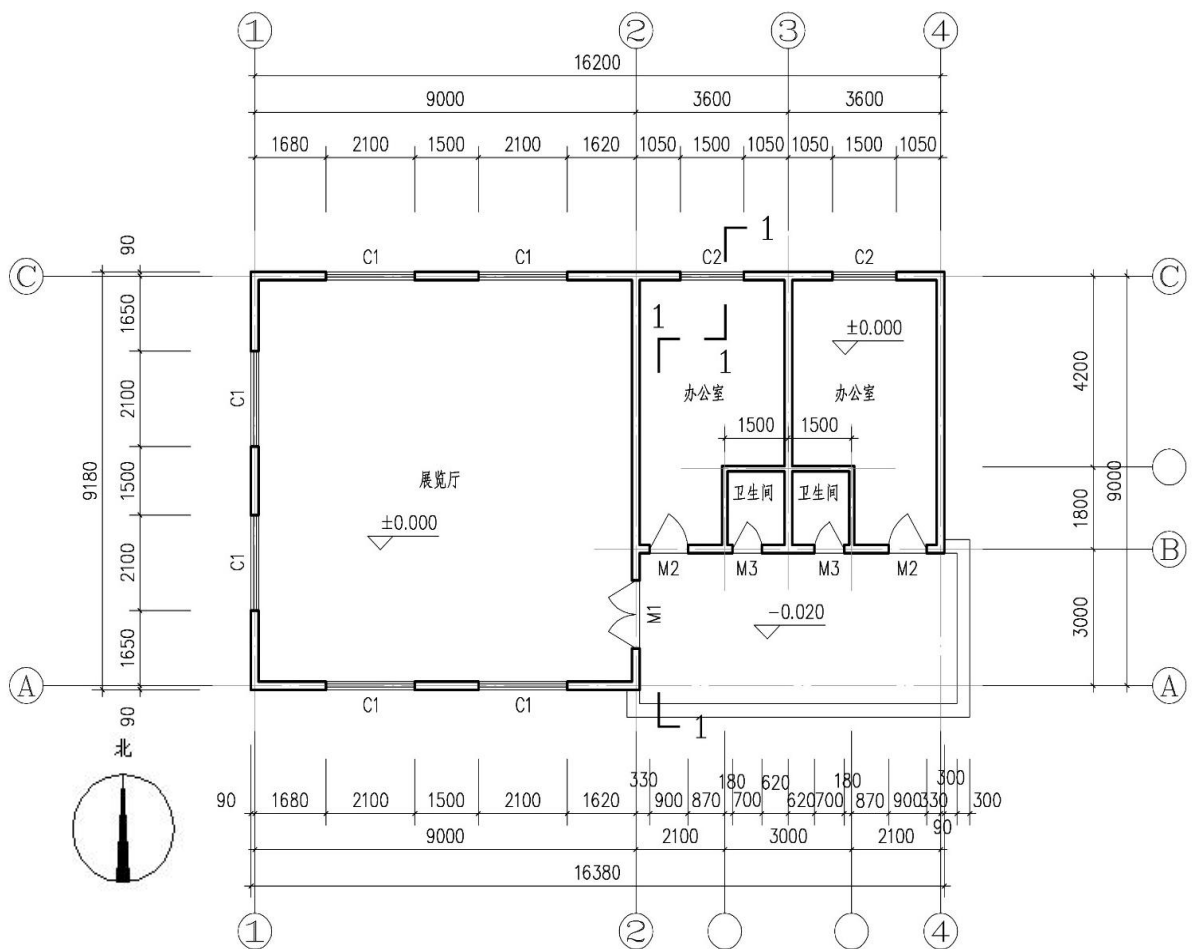
学号：

--	--

三、识图题 (每空 2 分, 共 28 分)

读如下“首层平面图”，回答下列问题。

- 1、该首层平面图的比例是_____，墙厚为_____ mm。
- 2、该建筑的总长为_____mm，总宽为_____mm。
- 3、图中 C2 的意思是_____，其宽度为_____mm。
- 4、图中卫生间的开间为_____mm，进深为_____mm，卫生间门的宽度为_____mm。
- 5、图中建筑入口处的标高为_____，办公室的地面标高为_____。
- 6、图中缺少三个定位轴线号，分别为_____、_____、_____。



首层平面图 1:100