

(A)卷

课程名称: 画法几何与建筑制图

适用班级: _____

考试日期: _____

题号	一	二	三	四	五	六	七	八	九	十	总分
题分											
得分											

考生注意事项: 1、本试卷共 4 页, 请查看试卷中是否有缺页或破损。如有立即举手报告以便更换。

2、考生在答题纸上答题, 试卷上答题无效! 考试结束后, 不得将试卷、答题纸和草稿纸带出考场。

一、 填空题 (每空 1 分, 共 18 分)

1. 建筑制图中尺寸标注的四要素是_____、_____、_____、_____。

2. A3 图纸的幅面规格=_____mm; 线性尺寸的起止符号为_____;
直径(半径)的起止符号为_____。

3. 绘制工程图样时, 1: 50 的含义是_____, 是放大还是缩小_____。

4. 根据直线与投影面的相对位置不同, 位置直线可分为_____、
_____、_____。

5. 建筑平面图凡被剖切到的墙柱断面轮廓线画_____线, 未被剖切到的窗台、散水、楼梯等画_____线。

6. 在建筑施工图中, 常以房屋的_____标高作为相对零点标高; 其注写形式为_____; 总平面图上的标高符号用_____来表示。

7.  该详图符号的意思是_____

学号

姓名

班

年级

专业

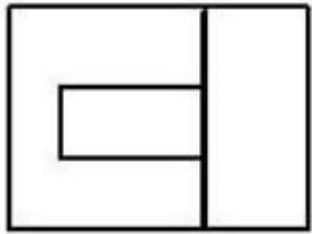
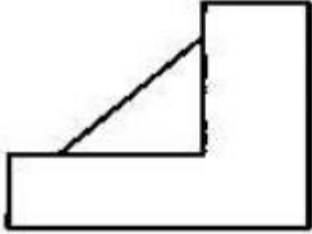
院系

学号：

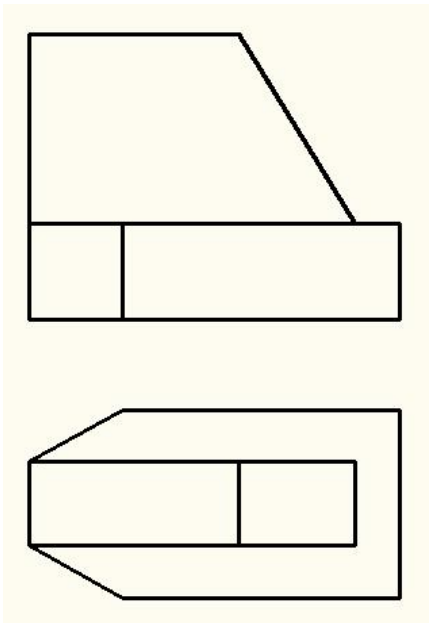
--	--

二、作图题（共四题，共 54 分）

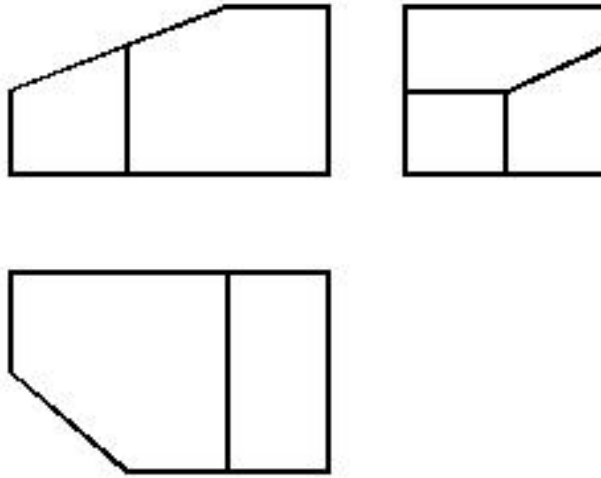
1. 根据给定的两面视图，补画左立面图（15 分）



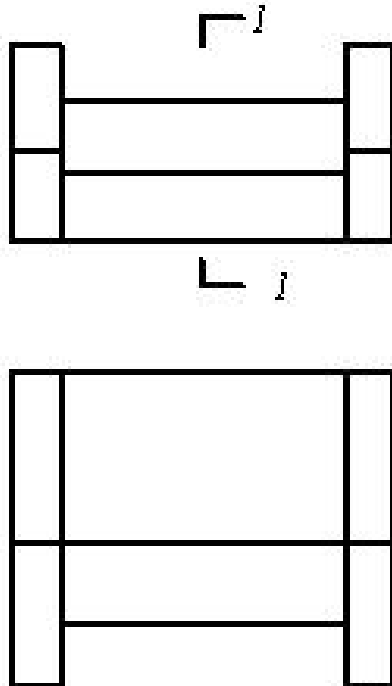
2. 根据给定的两面视图，补画左立面图（15 分）



3. 根据给定的三视图，作出正等轴测图。（保留轴测图的轴测轴）（12分）



4. 作 1—1 剖面图（12分）



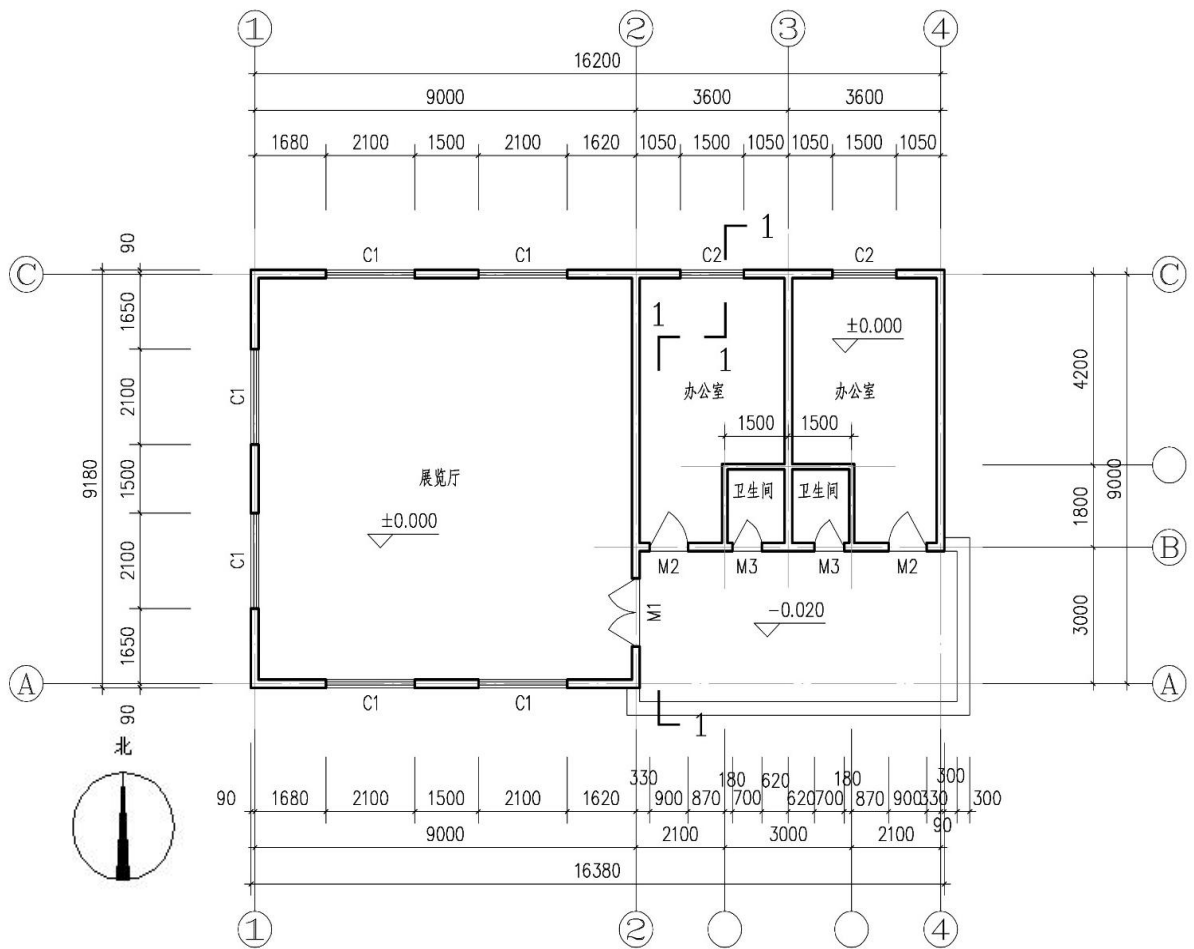
学号：

--	--

三、识图题 (每空 2 分, 共 28 分)

读如下“首层平面图”，回答下列问题。

1. 该首层平面图的比例是_____，墙厚为_____ mm。
2. 该建筑的总长为_____ mm，总宽为_____ mm。
3. 图中 C2 的意思是_____，其宽度为_____ mm。
4. 图中卫生间的开间为_____ mm，进深为_____ mm，卫生间门的宽度为_____ mm。
5. 图中建筑入口处的标高为_____，办公室的地面标高为_____。
6. 图中缺少三个定位轴线号，分别为_____、_____、_____。



首层平面图 1:100